



**Prefeitura  
de Rolândia**



**SECRETARIA MUNICIPAL DE EDUCAÇÃO**

**ATIVIDADES COMPLEMENTARES DE ESTUDO – COVID 19**

**25º ROTEIRO DE ATIVIDADES DE ESTUDO COVID 19.**

**ESCOLA MUNICIPAL GERALDA CHAVES TIRADENTES**

**ALUNO(a) \_\_\_\_\_ SALA DE RECURSO**

**COMPONENTES CURRICULARES: LÍNGUA PORTUGUESA MATEMÁTICA.**

**PERÍODO DE REALIZAÇÃO: 26/10/2020 à 30/10/2020**

**Senhores pais e responsáveis**

Vocês estão recebendo as **Atividades Complementares de Estudo para o período de isolamento-COVID 19**. Necessito muito de sua participação para que essas atividades sejam realizadas pelo seu filho. Os senhores precisam organizar um tempo, em casa, para a realização das atividades e para que seu filho possa estudar com tranquilidade.

No roteiro a seguir estão as atividades e todas as orientações para sua execução. Tudo está descrito de forma simples. Mas se houver alguma dúvida podem entrar em contato pelo *Whatsapp*, estarei à disposição para ajudá-los.

O que vamos aprender? LÍNGUA PORTUGUESA: Leitura e escrita de frases, palavras e desafio.

MATEMÁTICA: Numerais e caça-números.

Para que vamos aprender esses conteúdos? Realizar a leitura e a escrita de palavras e frases. Resolver caça-palavras. Organizar lista em ordem alfabética.

Realizar caça-números e organizar os números.

Como vamos registrar esses conteúdos? Realizar nas folhas impressas ou no caderno.

1- RESOLVA O CAÇA-PALAVRAS:

## CAÇA-PALAVRAS

- Procure, no *caça-palavras*, o nome de cada desenho abaixo:



A	F	A	D	A	E	I	J	O	U	I
B	O	F	A	M	Í	L	I	A	Q	L
U	F	I	T	A	H	R	C	Z	H	R
C	A	B	E	F	E	I	J	Ã	O	I
Q	F	O	C	A	Q	W	E	R	T	N
X	E	D	A	F	A	X	I	N	A	F
I	O	B	A	N	F	I	L	A	X	I
Z	C	O	F	I	G	O	T	Q	H	O
U	F	E	R	R	O	F	A	C	A	R

2- VAMOS ORGANIZAR A LISTA DE COMPRAS EM ORDEM ALFABÉTICA:



CAFÉ

LEITE

AÇÚCAR

TOMATE

SABONETE

FEIJÃO

QUEIJO

CEBOLA

BATATA

LIMÃO

UVA

GOIABADA

MACARRÃO







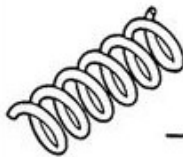





OVO

VINAGRE

SUCO

3- ESCREVA OS NOMES DAS FIGURAS SEM CONFUSÃO. E DEPOIS ESCOLHA TRÊS PARES E FORME TRÊS FRASES.

# NÃO CONFUNDA...

	-----COM-----	
	-----COM-----	
	-----COM-----	
	-----COM-----	
	-----COM-----	
	-----COM-----	

1 \_\_\_\_\_

2 \_\_\_\_\_

3 \_\_\_\_\_

\_\_\_\_\_

1- OLHA O PERCURSO MALUCO. COMPLETE O PERCURSO EM ORDEM DECRESCENTE E AJUDE O MENINO A ENCONTRAR SUA BOLA.



A path of numbered circles arranged in a zig-zag pattern, starting from a boy and ending at a soccer ball. The path consists of the following circles in order:

- Row 1: 50, 49, ( ), ( ), 46, 45, ( )
- Row 2: ( ), ( ), ( ), ( ), ( ), ( ), ( ), 43
- Row 3: 33, 34, ( ), 36, ( ), 38, ( ), ( ), 41, ( )
- Row 4: ( )
- Row 5: 31, ( ), ( ), 28, ( ), 26, 25, ( ), 23, 22
- Row 6: ( )
- Row 7: 11, ( ), 13, 14, ( ), 16, 17, ( ), 19, ( )
- Row 8: ( )
- Row 9: 9, ( ), 7, ( ), ( ), 4, 3, ( ), ( )

The path ends at a soccer ball.

2- PRESTE MUITA ATENÇÃO E SIGA AS INFORMAÇÕES.

Descubra cada número no caça-números e marque um X:

- a) É o mesmo que  $10 + 10 + 10 + 10$ :
- b) É o mesmo que 2 dezenas e 1 unidade:
- c) É o mesmo que  $6 + 4$ :
- d) É o mesmo que  $11 - 7$ :
- e) É o mesmo que 1 dúzia:

a -	10	30	20	40
b -	31	50	21	5
c -	10	9	8	7
d -	5	6	2	4
e -	7	12	10	9



Circule o número maior:

25 - 36

63 - 65

91 - 64

48 - 19

98 - 92

36 - 45

52 - 55

69 - 70

73 - 74

69 - 96

13 - 23

47 - 17